

「衡怡盃」

全港小學學術常識問答比賽

第十七屆 2022 年

題目集



嶺南衡怡紀念中學

目錄

第一章 中文科	2
Chapter 2. ENGLISH	4
第三章 數學科	7
第四章 常識科	9

嶺南衡怡紀念中學

香港柴灣小西灣道 31 號

電話：(852) 2576 4852

網址：<http://www.lhymss.edu.hk>

電子郵遞：info@lhymss.net

第一章 中文科

1. 圖中的書籍是哪位香港作家的作品？

A



A. 阿濃 B. 冰心 C. 馬翠蘿 D. 董啟章

2. 謎面「脫了紅袍子，是個白胖子；去了白胖子，是顆黑丸子。」猜一水果。

C

A. 西瓜 B. 奇異果 C. 荔枝 D. 哈密瓜

3. 「𠄎」是哪一個漢字的異體字？

B

A. 晝 B. 夜 C. 旦 D. 但

4. 謎面「有點自大」猜一字。

D

A. 尖 B. 默 C. 鼻 D. 臭

5. 「雍」字屬哪一個部首？

D

A. 宀 B. 糸 C. 鄉 D. 隹

6. 詩句「誰言寸草心」，下一句是甚麼？

A

A. 只是近黃昏 B. 報得三春暉 C. 一歲一枯榮 D. 粒粒皆辛苦

7. 唐詩《江雪》「千山鳥飛絕，萬徑人蹤滅。孤舟蓑笠翁，獨釣寒江雪。」的作者是誰？

A

A 柳宗元 B 孟浩然 C 杜甫 D 白居易

8. 下列句子的橫線上應填寫哪一個擬聲詞？

C

「晚上，側耳傾聽昆蟲_____的叫聲，是一首美妙的樂曲。」

A 淅瀝 B 汪汪 C 唧唧 D 哇哇

9. 下列哪一個屬於貶義詞？

C

A 勤奮 B 高尚 C 輕視 D 鼓勵

10. 「豉」的正確粵語讀音是甚麼？

B

A 豆 B 是 C 奇 D 估

Chapter 2. English

1. Which of the following words has the similar meaning to 'timid'?

D

- A. fast B. slow
C. medium D. shy
-

2. Which of the following words has the opposite meaning to 'shallow'?

B

- A. foolish B. deep
C. useless D. special
-

3. Which of the following is NOT an adjective?

A

- A. trouble B. confusing
C. correct D. handsome
-

4. Which of the following is the past participle form of the verb 'fight'?

C

- A. foughted B. fighten
C. fought D. foughten
-

5. Which is the odd one out?

D

- A. waffle B. pancake
C. crepe D. prune
-

6. What is the plural form of 'octopus'?

C

- A. octopuss B. octopus
C. octopi D. octopa
-

7. One of my co-workers _____ online meetings.

B

- A. enjoy B. enjoys
C. enjoies D. enjoyen
-

8. Which word can fit into the sentence?

D

'I'd like to have a _____ of vanilla ice-cream, please.'



- A. roll
- B. slice
- C. bunch
- D. scoop

9. Which word can fit into the sentence?

B

I finished the cup of milk _____ I was thirsty.

- A. therefore
- B. because
- C. until
- D. even

10. What does the idiom 'under the weather' mean?

C

- A. raining heavily
- B. activities being cancelled
- C. feeling sick
- D. feeling sad

第三章 數學科

1. 計算以下算式

A

$$\frac{14}{3} \div \frac{4}{5} \times \frac{6}{7}$$

- A. 5 B. $\frac{5}{7}$ C. 7 D. $\frac{12}{7}$

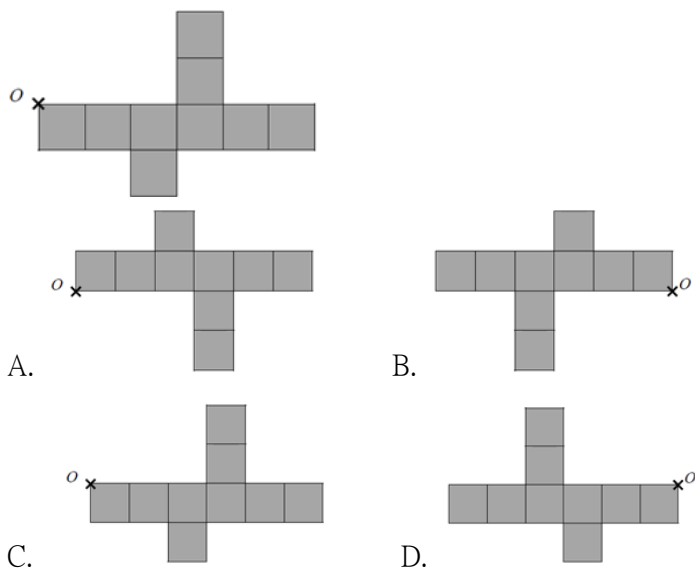
2. 米原價每包\$80，使用優惠券後以八五折購買，求購買三包米的價錢。

C

- A. \$68 B. \$80 C. \$204 D. \$240

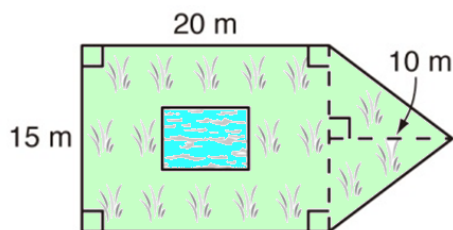
3. 找出以上圖形繞 O 點依順時鐘方向 180 度旋轉後的影像。

B



4. 圖中所示為一個花園，園內有一個水池，其餘的地方為草地。若水池是一個長 5 m 和闊 7 m 的長方形，求草地的面積。

A



- A. 340 m² B. 350 m² C. 360 m² D. 375 m²

5. 以下哪種多邊形的所有內角必定相等？

B

A. 等邊多邊形 B. 正多邊形

C. 凸多邊形 D. 凹多邊形

6. 子駿以 2 m/s 的速率游泳。問他游畢 400 m 需時多久？

D

A. 2 分鐘 B. 200 分鐘 C. 6 分鐘 40 秒 D. 3 分鐘 20 秒

7. 請計算以下算式

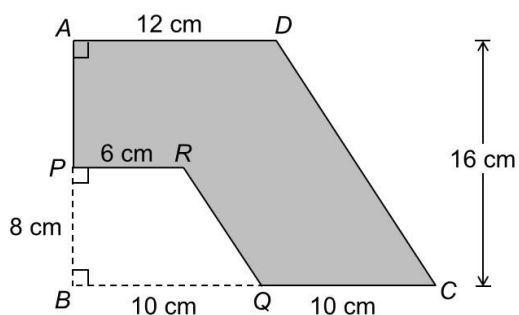
C

$$2+4+6+8+\cdots+198 =$$

A. 218 B. 5050 C. 9900 D. 10100

8. 在圖中， APB 和 BQC 都是直線。求陰影部分的面積。

C



A. 172 cm^2 B. 182 cm^2 C. 192 cm^2 D. 202 cm^2

9. 圓形的半徑是 25 cm，它的圓周是多少？(取 $\pi = 3.14$)

D

A. 50.4 cm B. 47.1 cm C. 94.2 cm D. 157 cm

10. 弟弟重 48kg，哥哥的體重是弟弟的 1.5 倍，妹妹的體重是哥哥的 0.75 倍，即妹妹重多少？

B

A. 44kg B. 54 kg C. 65 kg D. 72 kg

第四章 常識科

1. 基本法列出，香港在回歸後五十年不變，可繼續保持原有的甚麼制度？

B

- A 社會主義 B 資本主義
C 共產主義 D 中國特色社會主義

2. 根據基本法，哪項是參選香港行政長官的必要條件？

C

- A. 年滿五十周歲
B. 在香港居住三十年
C. 沒有外國居留權
D. 曾擔任政府官員

3. 2019年，中國成功自主設計和研發第一艘航空母艦，該母艦名稱是甚麼？

A

- A. 山東號 B. 山西號 C. 四川號 D. 成都號

4. 中國近年來積極加強與不同國家合作，建構龐大的網絡及經濟圈，為此提倡了甚麼計劃？

D

- A. 自由貿易區 B. 絲綢之路 C. 亞洲經濟走廊 D. 一帶一路

5. 以下哪個地方是經認證的香港法定古蹟？

A

- A. 舊灣仔郵政局 B. 尖沙咀消防局
C. 柴灣天后古廟 D. 中環渡輪碼頭

6. 被列作香港法定古蹟的舊中區警署(大館)，近年被活化後被用作甚麼用途？

B

(i) 藝術表演場地

(ii) 參觀及導賞

(iii) 購物商店

(iv) 出租住宅

A. (i),(ii)

B. (i),(ii),(iii)

C. (ii),(iii),(iv)

D. 以上皆是

7. 下圖中的動物是屬於哪一類動物？

C



A. 兩棲類 B. 哺乳類 C. 爬行類 D. 魚類

8. 以下哪項是會造成全球暖化的主要溫室氣體之一？

D

A 氧氣

B 氮氣

C 一氧化碳

D 二氧化碳

9. 香港哪位劍擊手於本年成功升上國際劍聯排名第一位？

D

- A. 何詩蓓
 - B. 江旻德
 - C. 張小倫
 - D. 張家朗
-

10. 以下哪個不是 2022 年政府消費券計劃的合作支付平台？

A

- A. 轉數快 FPS B. 拍住賞 Tap & Go
 - C. 支付寶香港 D. PayMe
-

全書完