

「衡怡盃」

全港小學學術常識問答比賽

第十六屆 2021 年

題目集



LINGNAN HANG YEE MEMORIAL SECONDARY SCHOOL
30TH ANNIVERSARY



LINGNAN HANG YEE MEMORIAL SECONDARY SCHOOL
30TH ANNIVERSARY



嶺南衡怡紀念中學

目錄

第一章 中文科	2
Chapter 2. ENGLISH	4
第三章 數學科	6
第四章 常識科	8

嶺南衡怡紀念中學

香港柴灣小西灣道 31 號

電話：(852) 2576 4852

網址：<http://www.lhymss.edu.hk>


電子郵遞：info@lhymss.net

© Copyright 版權所有 嶺南衡怡紀念中學 2018

第一章 中文科

1. 圖中的書籍是哪位香港作家的作品？

C



A. 何紫 B. 阿濃 C. 董啟章 D. 周淑屏

2. 謎面「兩姐妹一樣長，出入都成雙，酸甜苦辣味，他們總先嘗。」猜一物品。

C

A. 刀叉 B. 瓶子 C. 筷子 D. 腳

3. 「𤝵」是哪一個漢字的異體字？

C

A. 犬 B. 大 C. 飆 D. 走

4. 謎面「七十二小時。」猜一字。

B

A. 天 B. 晶 C. 九 D. 毛

5. 「愛」字屬哪一個部首？

B

A. 爪 B. 心 C. 大 D. 丿

6. 詩句「欲窮千里目」，下一句是甚麼？

C

A. 白日依山盡 B. 白毛浮綠水 C. 更上一層樓 D. 此物最相思

7. 唐詩《春曉》「春眠不覺曉，處處聞啼鳥。夜來風雨聲，花落知多少。」的作者是誰？

D

A. 杜牧 B. 李白 C. 杜甫 D. 孟浩然

8. 請問在下列句子的橫線上應填寫哪一個擬聲詞？

C

「聽到一陣____的雨聲，又知道是雨季了。」

A. 布穀 B. 嘶嘶 C. 淅淅瀝瀝 D. 隆隆

9. 請選出下列 A 至 D 哪一個屬於褒義詞？

C

A. 懶散 B. 不雅 C. 勤儉 D. 草率

10. 「踵」的正確粵語讀音是甚麼？

D

A. 蹤 B. 足 C. 種 D. 總

Chapter 2. English

1. Fill in the blank with the correct conjunction.

A

Timothy lost the match _____ he worked hard

- A. although B. because
C. if D. before
-

2. What is the opposite of 'narrow'?

C

- A. unnarrows B. tiny
C. broad D. slim
-

- 3.



D

Which word can fit into the sentence?

There is a _____ of toilet paper on the bathroom counter.

- A. bunch B. ton
C. slice D. roll
-

4. Which of the following is **NOT** an adjective?

A

- A. quite B. quiet
C. hard D. lovely
-

5. Which of the following is the past participle of the verb 'forget'?

D

- A. seeked B. seeken
C. sought D. sook
-

6. What is the daughter of one's sister called?

B

- A. nephew B. niece
C. younger sister D. sister-in-law
-

7. What is the opposite of 'smooth'?

D

- A. messy B. quiet
C. difficult D. rough
-

8. Which is the odd one out?

C

- A. hurricane B. flood
C. sand D. earthquake
-

9. Choose the most suitable answer.

B

"Sugar and flour _____ needed for this cake recipe."

- A. is B. are C. was D. were
-

10. What is the plural form of 'aircraft'?

A

- A. aircraft B. aircrafts
C. aircraftes D. aircraves
-

第三章 數學科

1. 計算以下算式

A

$$\frac{9}{5} \times \frac{10}{3} \div \frac{6}{11}$$

- A. 11 B. $\frac{3}{11}$ C. $\frac{11}{3}$ D. $\frac{1}{11}$

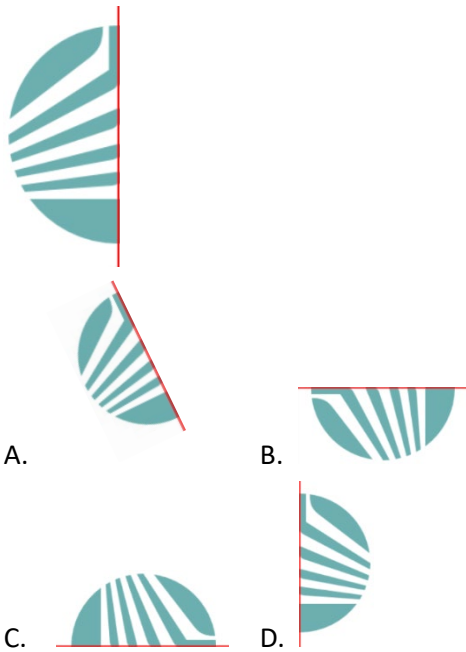
2. 原價\$1100 的結他，現以六五折出售，售價是多少？

C

- A. \$915 B. \$815 C. \$715 D. \$615

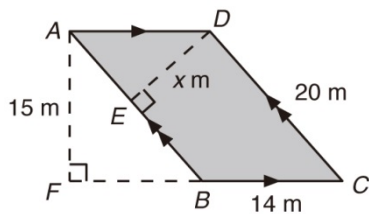
3. 參看下圖，求圖中的標誌沿紅線反射所得的圖形。

D



4. 求下圖中直角三角形中 x 的值。

C



- A. 8.5 B. 9.5 C. 10.5 D. 11.5

5. 以下哪種形狀不一定對邊相等？

B

A. 平行四邊形 B. 六邊形 C. 菱形 D. 正八邊形

6. 短跑跑手以 25 秒完成 200 米賽事，求該跑手的平均速率。

A

A. 每秒 8 米 B. 每秒 8.33 米 C. 每秒 8.63 米 D. 每秒 8.93 米

7. 請計算以下算式。

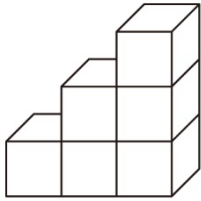
D

$$1 + 2 + 3 + 4 + \dots + 100 =$$

A. 2020 B. 3030 C. 4040 D. 5050

8. 圖中的棱柱由數個邊長為 2 cm 的正方體所組成。求該棱柱的體積。

C



A. 6 cm^3 B. 24 cm^3 C. 48 cm^3 D. 72 cm^3

9. 圓形的半徑是 7 cm，它的圓周是多少？(取 $\pi = \frac{22}{7}$)。

A

A. 44 cm B. 66 cm C. 33 cm D. 22 cm

10. 小怡在小衡的東方相距 3 公里，小衡在小南的正北方相距 5 公里。

C

小南東方走 8 公里後，小南在小怡的哪個方向？

A. 東北方 B. 西南方 C. 東南方 D. 北方

第四章 常識科

1. 圖中是香港哪個政府部門？

C



- A. 勞工處 B. 路政署
C. 社會福利署 D. 地政總署

2. 本年度財政預算案宣布設立「百分百擔保個人特惠貸款」，是為了什麼市民提供多一個財政選項？

A

- A. 失業人士
B. 傷殘人士
C. 單親人士
D. 新來港人士


3. 現任食物及衛生局局長是？

D

- A. 黃錦星 B. 李家超 C. 張竹君 D. 陳肇始

4. 圖中的地標所在的國家在哪裏？

B



- A. 中國 B. 西班牙 C. 俄羅斯 D. 法國

5. 基本法規定一九九七年後，香港特別行政區可保持原有的資本主義制度和生活方式多少年不變？
- A. 100 年
 - B. 75 年
 - C. 50 年
 - D. 25 年

C

6. 下列哪項關於中東呼吸綜合症的描述是不正確的？
- A. 病徵包括發燒、咳嗽、呼吸急促和困難
 - B. 能透過接觸駱駝感染
 - C. 潛伏期為兩個月
 - D. 有人傳人的情況

C

7. 誰在耳聾的情況下，連續寫下九部交響曲。當中《第九交響曲》被譽為不朽之作。
- A. 貝多芬
 - B. 莫札特
 - C. 巴赫
 - D. 蕭邦

A

8. 下列哪項不是室內空氣污染物「一氧化碳」的來源？
- A. 燃燒源頭如煮食爐灶
 - B. 人類呼吸
 - C. 引擎廢氣
 - D. 吸煙

B

9. 以下哪一項不是香煙中的焦油對身體造成的影響？
- A. 引致癌症
 - B. 阻塞及刺激氣管及肺部
 - C. 令吸煙者失去記憶
 - D. 令吸煙者牙齒變黃

C

10. 在上網電價計劃下，安裝太陽能光伏或風力發電系統的人士，可以向誰售賣所生產的可再生能源？
- A. 石油公司
 - B. 煤氣公司
 - C. 電力公司
 - D. 香港政府

C

全書完



第十六屆衡怡盃
「全港小學學術常識問答比賽」
衡怡在線
2021年6月24-26日

上屆(2020年)因疫情改為線上舉行，

參加人次超過**1000人**

今屆繼續在**線上**為全港小學提供學術交流和比拼的機會



學校網站



Instagram



Facebook

衡怡在線
最新資訊

